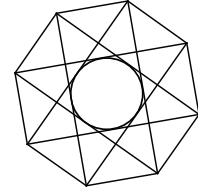


Qüestions de 3 punts:

1. Quin d'aquests nombres és el més gran?

- A) 2013 B) 2^{0+13} C) 20^{13} D) 2012^3 E) $20 \cdot 13$

2. Els costats de l'octàgon regular de la figura fan 10 cm. Quant fa el radi del cercle inscrit en l'octàgon petit que formen les diagonals dibuixades?



- A) 10 B) 7,5 C) 5 D) 2,5 E) 2

3. Un prisma té 2013 cares en total. Quantes arestes té?

- A) 2011 B) 2013 C) 4022 D) 4024 E) 6033

4. L'arrel cúbica de $3^{(3^3)}$ és igual a:

- A) 3^3 B) $3^{(3^3-1)}$ C) $3^{(2^3)}$ D) $3^{(3^2)}$ E) $(\sqrt{3})^3$

5. L'any 2013 té la propietat que el nombre de l'any és format per les xifres consecutives 0, 1, 2 i 3. Quants anys han passat des de l'última vegada que el número de l'any es podia formar amb quatre xifres consecutives?

- A) 467 B) 527 C) 581 D) 693 E) 990

6. Si $f(x) = mx + n$, amb m i n constants, és una funció que compleix $f(2013) - f(2001) = 100$, quant val $f(2031) - f(2013)$?

- A) 75 B) 100 C) 120 D) 150 E) 180

7. Si $2 < x < 3$, quantes de les quatre expressions següents són certes?

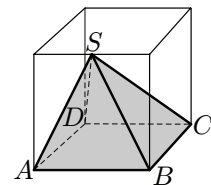
$$4 < x^2 < 9 \quad 4 < 2x < 9 \quad 6 < 3x < 9 \quad 0 < x^2 - 2x < 3$$

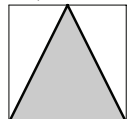
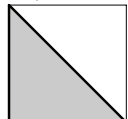

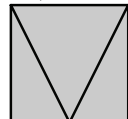
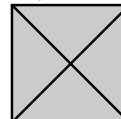
- A) 0 B) 1 C) 2 D) 3 E) 4

8. Sis superherois han capturat vint malfactors. El primer superheroi ha capturat un malfactor; el segon, dos malfactors, i el tercer, tres. El quart superheroi n'ha capturat més que qualsevol dels altres cinc. Quin és el nombre mínim de malfactors que podem assegurar que ha capturat el quart superheroi?

- A) 7 B) 6 C) 5 D) 4 E) 3

9. En el cub transparent de la figura es pot veure una piràmide sòlida i opaca $ABCD S$ amb base $ABCD$, de manera que el vèrtex S és en el punt mig d'una de les arestes del cub. Si ens mirem el cub des de totes les cares possibles, quina de les vistes següents no és possible?



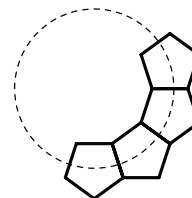
- A)  B)  C)  D)  E) 

10. Quan una certa quantitat d'una substància sòlida es fon, el seu volum augmenta una dotzena part. En quina proporció decreix el volum d'aquesta substància líquida quan se solidifica i retorna al volum original?

- A) $\frac{1}{10}$ B) $\frac{1}{11}$ C) $\frac{1}{12}$ D) $\frac{1}{13}$ E) $\frac{1}{14}$

Qüestions de 4 punts:

11. En Raül té peces en forma de pentàgon regular, totes iguals. Les enganxa aresta amb aresta fins que forma un cercle, com es veu en la figura. Quantes peces ha utilitzat per a formar el cercle?

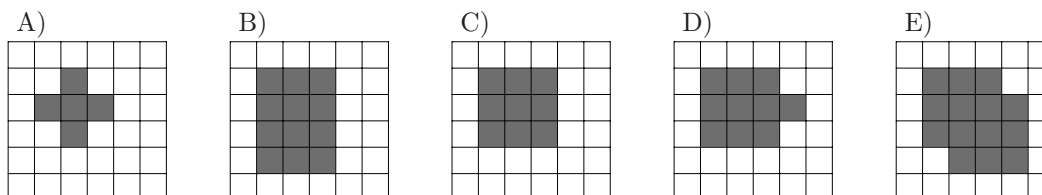


- A) 8 B) 9 C) 10 D) 12 E) 15

12. Quants nombres enters positius n hi ha, de manera que tant $3n$ com $n/3$ són nombres de tres xifres?

- A) 12 B) 33 C) 34 D) 100 E) 300

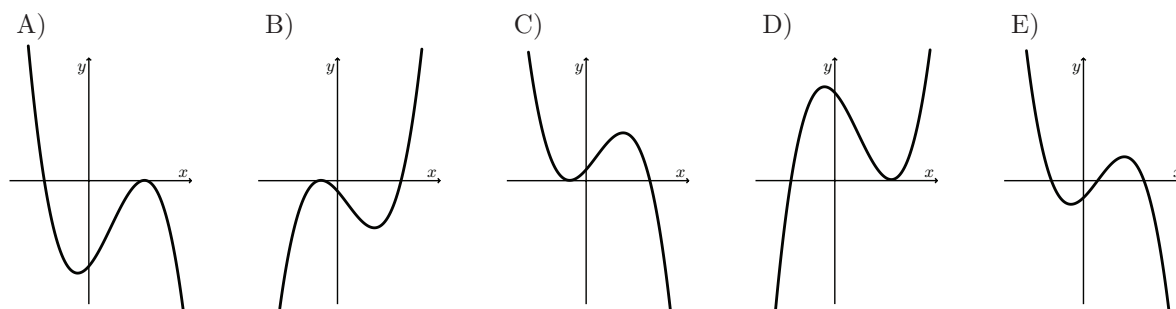
13. Volem posar una catifa circular en un terra enrajolat amb peces quadrades. Totes les rajoles que tinguin més d'un punt en comú amb la catifa estaran ombrejades. Quina de les opcions següents és impossible d'aconseguir?



14. D'una certa funció f en el conjunt dels nombres enters, se'n fa aquesta afirmació: «Per a qualsevol x parell, $f(x)$ és parell». Si aquesta afirmació és falsa, quina de les proposicions següents podem assegurar que és certa?

- A) Per a qualsevol nombre parell x , $f(x)$ és senar.
 B) Per a qualsevol nombre senar x , $f(x)$ és parell.
 C) Per a qualsevol nombre senar x , $f(x)$ és senar.
 D) Hi ha un nombre parell x que fa que $f(x)$ sigui senar.
 E) Hi ha un nombre senar x que fa que $f(x)$ sigui senar.

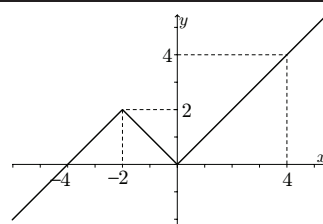
15. La gràfica d'una funció $y = (a - x)(b - x)^2$, en què $a < b$, és una d'aquestes. Quina?



16. Un costat d'un rectangle fa 5 unitats. Aquest rectangle es pot dividir en un quadrat i un rectangle, de manera que l'àrea d'una d'aquestes dues peces fa 4 unitats quadrades. Quants rectangles diferents es poden formar amb aquestes condicions?

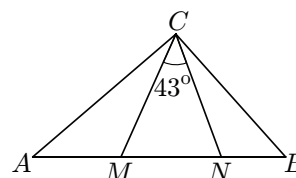
- A) 1 B) 2 C) 3 D) 4 E) 5

17. En Víctor ha dibuixat la gràfica d'una funció $f : \mathbb{R} \rightarrow \mathbb{R}$, formada per dues semirectes i un segment, com es veu en la figura. Quantes solucions té l'equació $f(f(f(x))) = 0$?



- A) 4 B) 3 C) 2 D) 1 E) 0

18. En el triangle $\triangle ABC$ els punts M i N sobre el costat AB compleixen $AN = AC$ i $BM = BC$. Trobeu l'angle \widehat{ACB} si $\widehat{MCN} = 43^\circ$.



- A) 86° B) 89° C) 90° D) 92° E) 94°

19. Quants parells (x, y) de nombres enters i positius satisfan l'equació $x^2 y^3 = 6^{12}$?

- A) 6 B) 8 C) 10 D) 12 E) Un altre nombre

20. Una caixa conté 900 targetes numerades de la 100 a la 999, totes amb nombres diferents. En Francesc treu, de cop, unes quantes targetes i fa la suma de les xifres de cadascuna. Quantes targetes ha de treure, com a mínim, per estar segur que tindrà tres targetes amb la mateixa suma de xifres?

- A) 51 B) 52 C) 53 D) 54 E) 55

Qüestions de 5 punts:

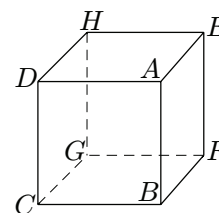
21. Quants parells (x, y) de nombres enters amb $x \leq y$ hi ha, de manera que el producte dels dos nombres és igual a cinc vegades la seva suma?

- A) 3 B) 4 C) 5 D) 6 E) 7

22. Si $f : \mathbb{R} \rightarrow \mathbb{R}$ és la funció definida per les propietats següents: f és periòdica amb període 5, i per $-2 \leq x < 3$, es compleix que $f(x) = x^2$, quant és $f(2013)$?

- A) 0 B) 1 C) 2 D) 4 E) 9

23. El cub sòlid de la figura es talla per un pla que passa pels tres vèrtexs veïns del vèrtex A , és a dir D , E i B . De manera semblant, el cub es talla per plans que passen pels vèrtexs veïns a cadascun dels set vèrtexs que queden. Com serà la peça que contindrà el centre del cub després de tallar-lo?



- A) B) C) D) E) El centre de la figura pertany a diverses peces.

24. Quantes solucions (x, y) té l'equació $x^2 + y^2 = |x| + |y|$, si x i y són nombres reals?

- A) 1 B) 5 C) 8 D) 9 E) Infinites

